

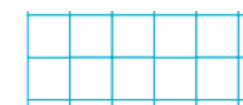
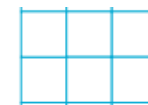
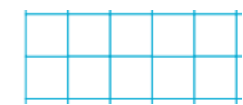
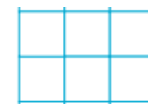
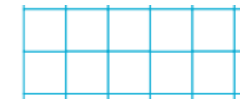
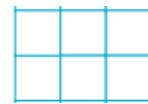
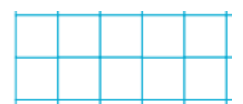
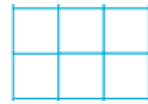
Obliczenia pieniężne. Klasa 1

1. Przeczytaj nazwy monet.




2. Ile tu jest monet?

Ile to zł?




3. Hubert kupił herbatę za 3 złote i herbatniki za 2 złote. Ile zapłacił Hubert?











Odp.: Hubert zapłacił  złotych.

4. Hanka kupiła zabawki. Za hipopotama zapłaciła 5 złotych i za hulajnogę 5 złotych. Ile zapłaciła Hanka?



Odp.: Hanka zapłaciła  złotych.

Oceń swoją pracę! Pokoloruj gwiazdkę w odpowiednich miejscach w tabelce.

	Umiem!	Muszę jeszcze popracować!
Rozpoznaję monety 1 złoty, 2 złoty, 5 złotych		
Obliczam, ile złotych jest razem		
Uważnie odczytuję treść zadania tekstowego i wyszukuję w nim potrzebne dane		
Tworzę odpowiednie działanie, obliczam je		
Pamiętam o jednostce „złoty”	