
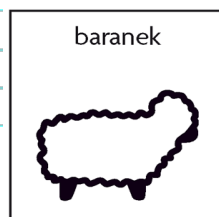


1. Zosia kupiła 3 jednakowe cukrowe baranki w cenie 5 zł każdy. Oblicz ile zapłaciła za wszystkie baranki.



Ile Zosia zapłaci za 6 takich baranków?




2. Tomek kupił 5 jednakowych czekoladowych zajączków w cenie 5zł 15 gr każdy. Oblicz ile Tomek zapłacił za wszystkie zajączki?



3. Za 5 kolorowych pisanek zapłacono 15 zł 45 gr. Oblicz cenę jednej pisanki.



4. Za 8 jednakowych palm wielkanocnych zapłacono 72 zł 80 gr.

Jaka była cena jednej palmy?


Ile należy zapłacić za dwie palmy?


Ile należy zapłacić za siedem palm?

