

1. Uzupełnij tabelki

+27	18		59		47	-27	
		34		81			65
+19		35		49		60	-19
		72		86		51	

2. Oblicz w pamięci.

28+19= .....

34+47= .....

15+76= .....

47+25= .....

16+66= .....

34+28= .....

68+24= .....

17+44 .....

3. Jaś i Maciek zbierają na nowe rolki. Jaś ma 26 zł, a Maciek 36 zł. Każdy chłopiec zarobił jeszcze ze sprzedaży makulatury po 19 zł. Ile złotych ma teraz Jaś, a ile Maciek? Ile złotych mają łącznie chłopcy?

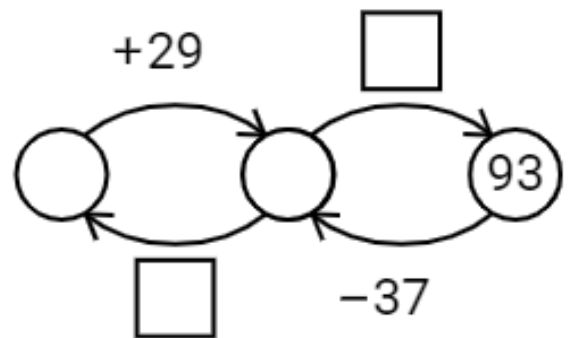
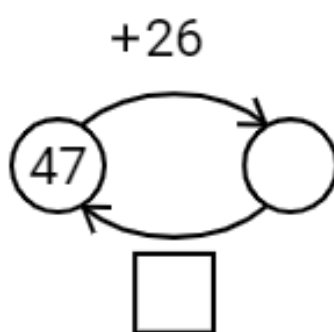
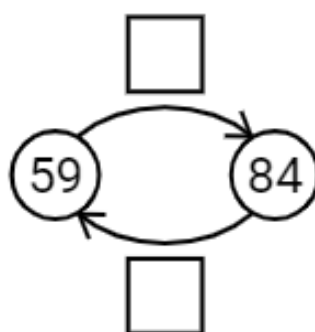
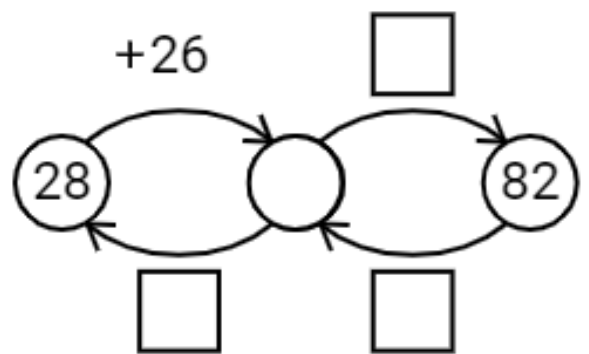
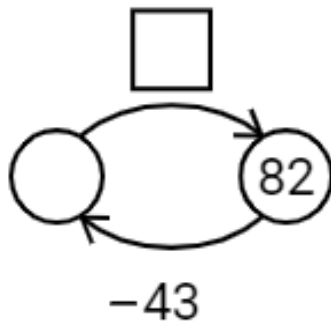
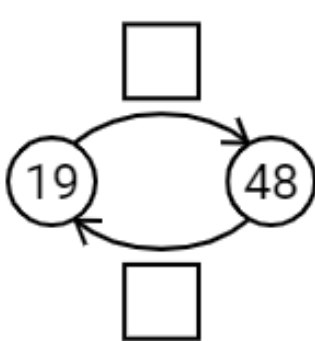
Jaś


Maciek


Razem


Odp.:


4. Uzupełnij grafy matematyczne



Oceń swoją pracę! Postaw „+” w odpowiednich miejscach w tabelce.

	<b>Doskonale!</b>	<b>Dobrze!</b>	<b>Muszę jeszcze popracować!</b>
<b>Obliczam sumy działań w zakresie 100</b>			
<b>Obliczam różnice działań w zakresie 100</b>			
<b>Uważnie odczytuję treść zadania tekstowego i wyszukuję w nim potrzebne dane</b>			
<b>Tworzę odpowiednie działanie, obliczam je i zapisuję odpowiedź</b>			
<b>Rozwiązuję grafy matematyczne</b>			

