

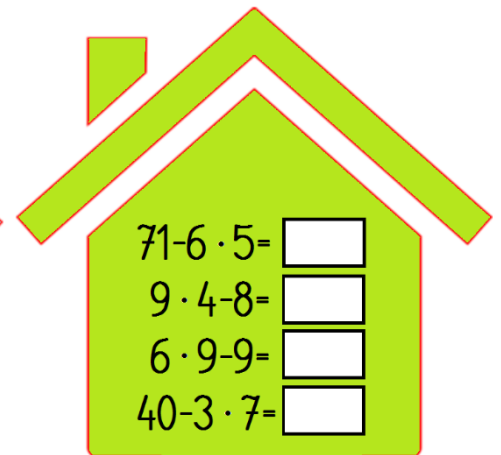
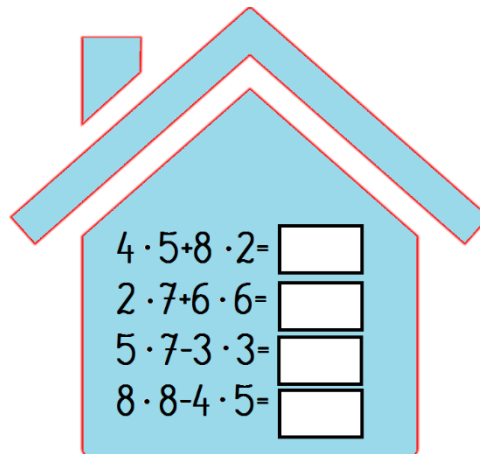

Kolejność wykonywania działań. Rozwiązywanie zadań tekstowych. Klasa II

1. Na skraju lasu rosną 3 dęby i 4 razy więcej brzoź. Ile dębów i brzoź rośnie na skraju lasu?

Obliczenie:

Odp.:

2. Oblicz w pamięci



3. Zmień zadanie tak, by można je było rozwiązać.

Każda kura zniosła 9 jajek.

Ile jajek zniosły te kury?



Grid for writing the answer to question 3.

Oceń swoją pracę! Postaw „+” w odpowiednich miejscach w tabelce.

	Doskonale!	Dobrze!	Muszę jeszcze popracować!
Obliczam działania łączne, pamiętając o kolejności wykonywania działań			
Uważnie odczytuję treść zadania tekstowego i wyszukuję w nim potrzebne dane			
Tworzę odpowiednie działanie, obliczam je i zapisuję odpowiedź			
Tworzę brakującą treść zadania, działanie, odpowiedź.			