

Dodawanie i odejmowanie. Klasa 1

1. Policz, ile pieniędzy ma każde dziecko.



Ignacy



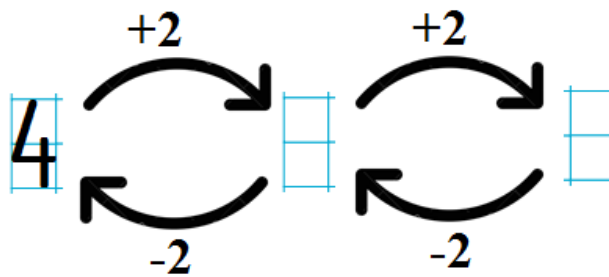
Kostek




Monika



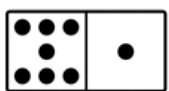
2. Dodawaj lub odejmuj tyle, ile pokazuje strzałka. Wpisz wyniki w kratki.



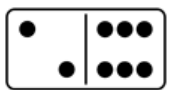
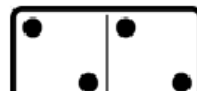
3. Zapisz działania i oblicz, ile razem zabawek jest na każdej półce.



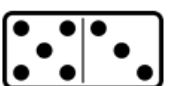
4. Stwórz działania według wzoru i oblicz wyniki.



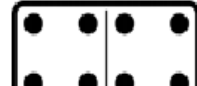
$$7 + 1 = \square$$









$$\square + \square = \square$$



$$\square + \square = \square$$



Oceń swoją pracę! Pokoloruj gwiazdkę w odpowiednim miejscu w tabelce

	Umiem!	Muszę jeszcze popracować!
Odróżniam od siebie działania na dodawanie i odejmowanie.		
Rozwiązuję działania na dodawanie i odejmowanie i wpisuję odpowiedni wynik		
Tworzę działania na podstawie obserwowanej sytuacji na obrazku		
Odróżniam monety 1 zł, 2 zł, 5 zł i obliczam, ile złotych mają dzieci	