


1. Dorysuj lub skreśl elementy zgodnie z zapisem działań. Oblicz i wpisz wyniki.



$6 + 1 =$



$7 - 4 =$




$5 + 2 =$



$6 - 3 =$



$3 + 3 =$




$7 - 5 =$

2. Do każdego rysunku dobierz właściwe działania i wpisz odpowiednie wyniki.



$7 - 3 =$



$4 + 2 =$



$6 + 1 =$



$7 - 5 =$

3. Julka miała



Dała swojej siostrze 3 lizaki. Ile lizaków zostało Julce?

4. Wykonaj działanie przy każdym tulipanie. Połącz kwiaty z wazonami z pasującym wynikiem.



$1 + 5$



$3 + 4$



$1 + 6$



$3 + 3$



$1 + 4$



$7 - 1$



$4 + 2$



$6 - 1$



$7 - 2$



$2 + 5$

Oceń swoją pracę! Pokoloruj gwiazdkę w odpowiednim miejscu w tabelce

	Umiem!	Muszę jeszcze popracować!
Odróżniam od siebie działania na dodawanie i odejmowanie.		
Rozwiązuję działania na dodawanie i odejmowanie i wpisuję odpowiedni wynik		
Dopasowuję działanie do pasującej sytuacji na obrazku		
Tworzę odpowiednie działanie na podstawie zadania tekstowego		